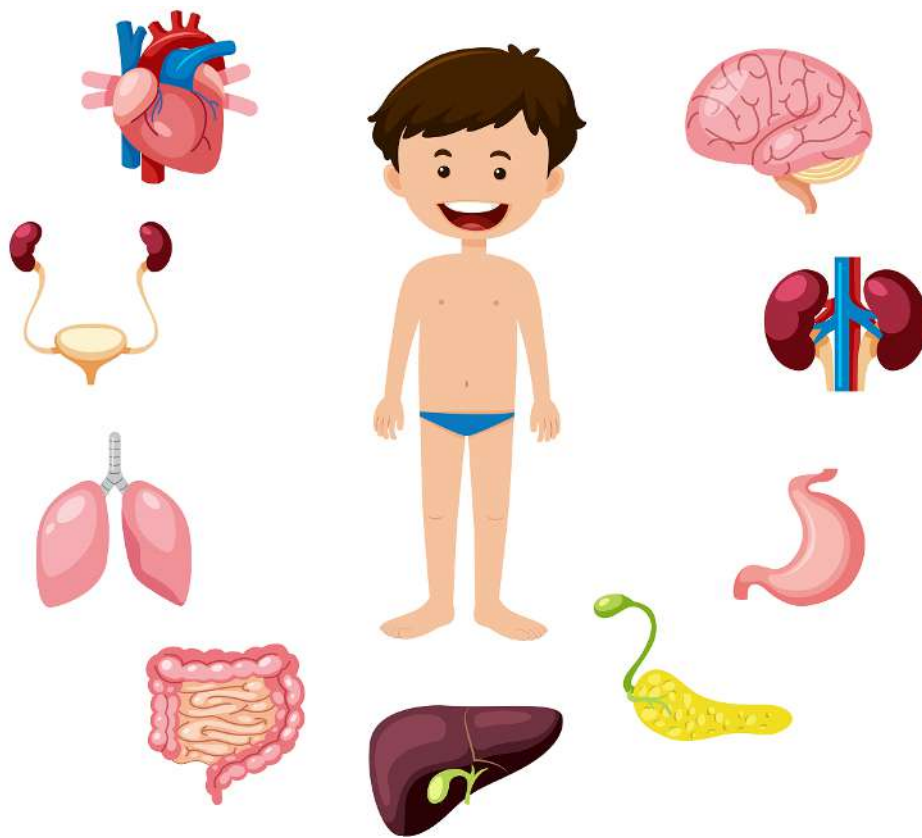


Mit hæfte om Kroppens organer



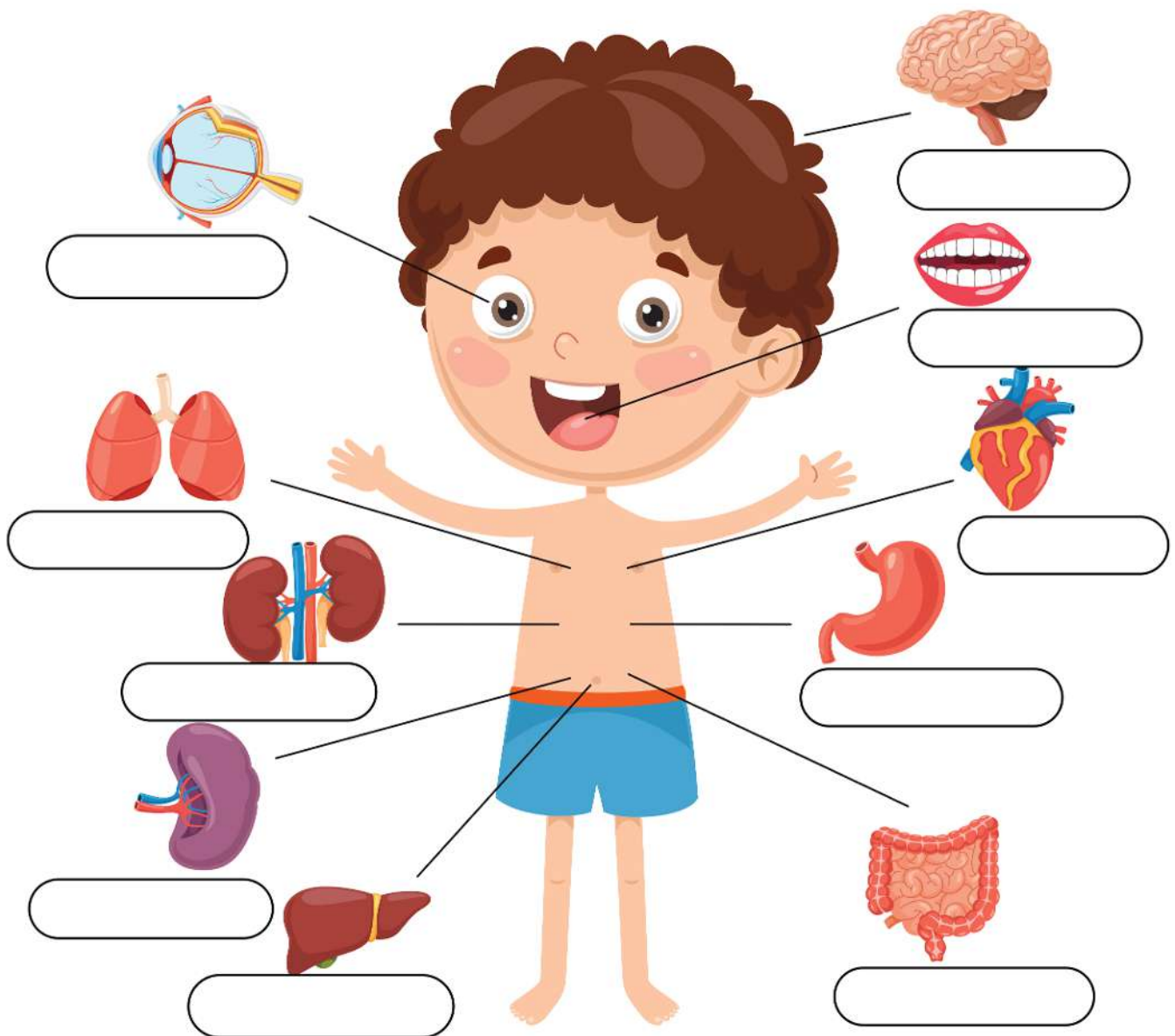
Navn: _____

Dato: _____

Kroppens organer

Menneskekroppen er som en indviklet maskine, sammensat af mange forskellige dele, der arbejder for at få kroppen til at fungere.

Placér eller skriv det rigtige navn ved hvert billede.



hjerte

lunge

øje

lever

mavesæk

tarm

mund

nyre

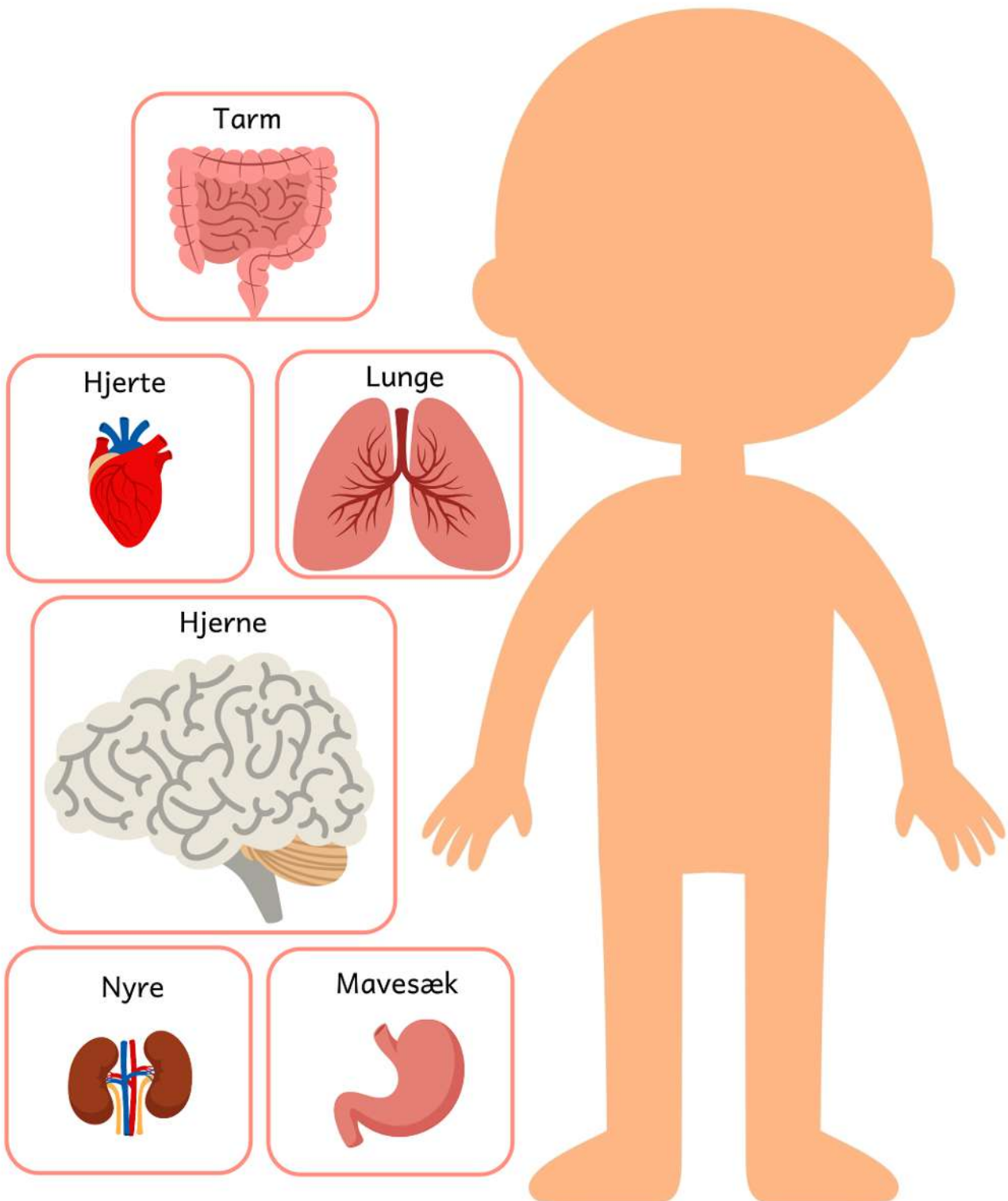
milt

hjerne

Sæt organerne på plads

Inde i din krop har du mange forskellige organer, som hver har deres særlige opgave i arbejdet med at holde dig sund og rask.

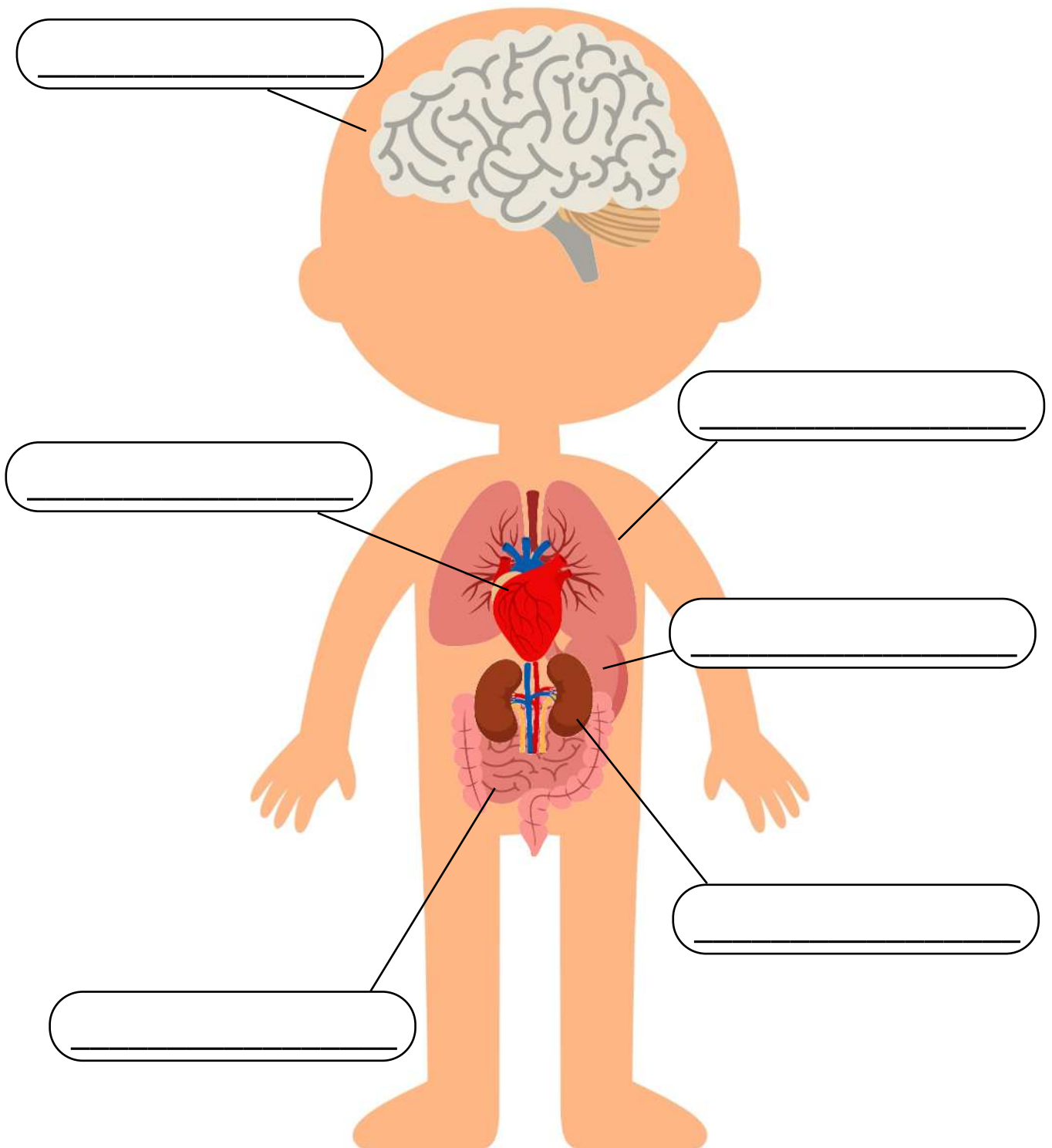
Klip organerne ud og sæt dem på kroppen.



Kroppens organer

Hjernen er kroppens kontrolcenter. Den styrer alle kroppens aktiviteter ved at modtage og sende signaler gennem nervesystemet.

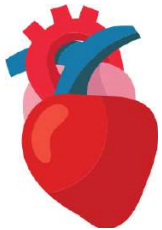
Her kan du se, om du har fået placeret organerne rigtigt.
Skriv navnet på de forskellige organer.



Skriv navnet

Hjertet er et vitalt organ, der pumper blod gennem vores kredsløbssystem. Blodet transporterer ilt og næringsstoffer til cellerne.

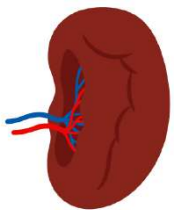
Skriv ordene for de forskellige organer.



Hjerte Hjerte



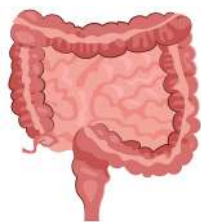
Mave Mave



Milt Milt Milt



Lever Lever



Tarm Tarm



Blære Blære



Lunger Lunger

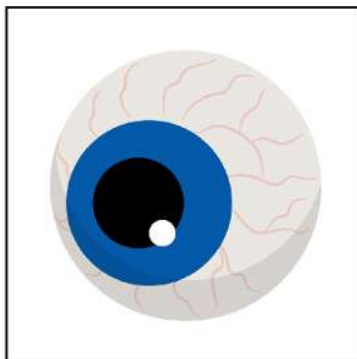
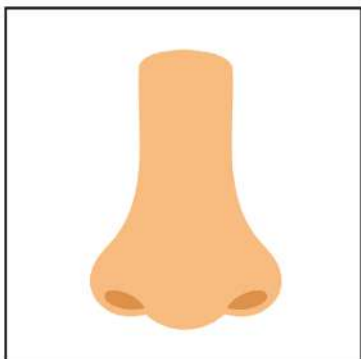
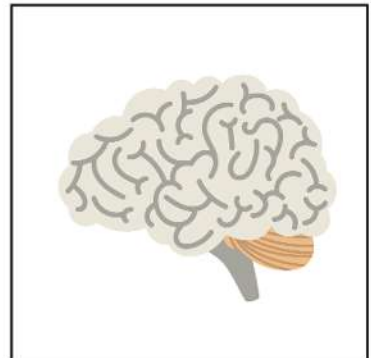
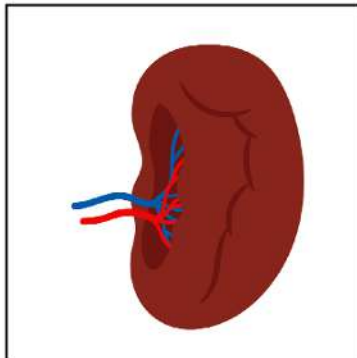
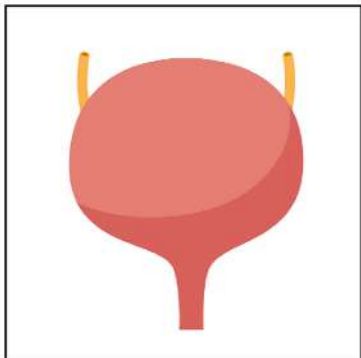
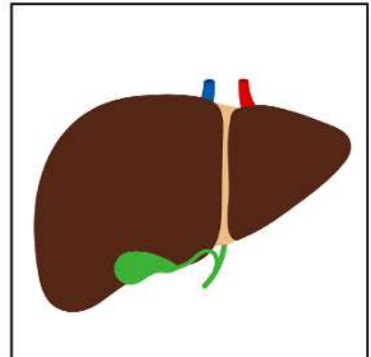
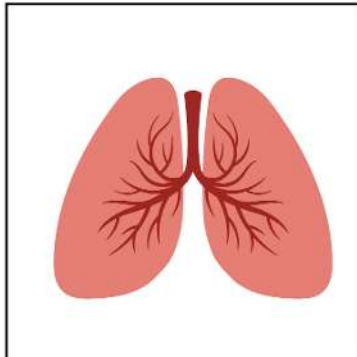
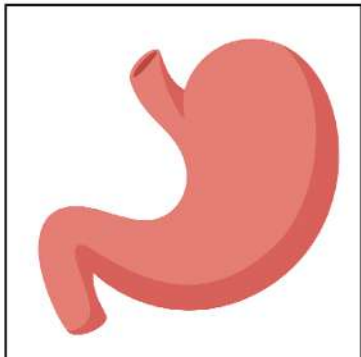
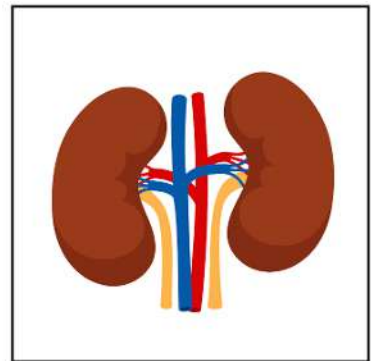
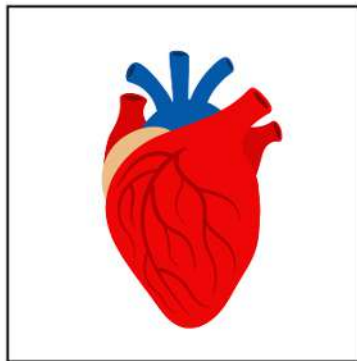
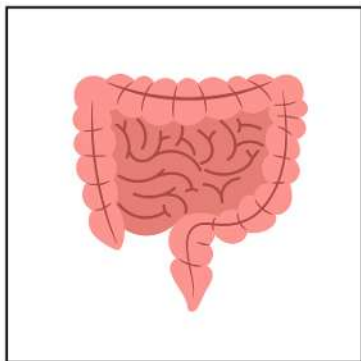
Vendespil

Nogle organer arbejder sammen om en fælles opgave. Det kalder man et organsystem. F.eks. er mund, mave og tarm en del af det samme system.



Klip ud
og spil!

Match billederne med det rigtige navn.



Vendespil

Fordøjelsen af maden starter i munden og fortsætter i maven og tarmene. Så kan maden komme videre ud i kroppen.

Match billederne med det rigtige navn.



Tarm

Hjerte

Nyre

Mavesæk

Lunge

Lever

Blære

Milt

Hjerne

Næse


Øje

Mund

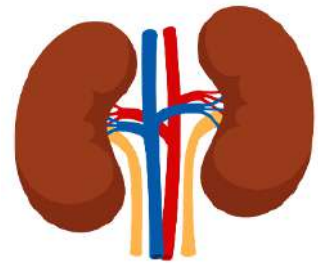
Gæt et organ

Her på siden kan du se forskellige organer. Til hvert billede er der en beskrivelse af organet og dets funktion.

Tegn en streg fra beskrivelsen til det rigtige billede.

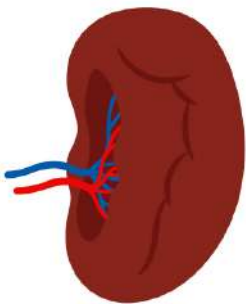


Den er grålig of svampet. Du finder den i hovedet. Dens opgave er at styre og regulere alle kroppens aktiviteter.



Dette organ er formet som en kegle og sidder i brysthulen. Det har til opgave at pumpe blodet rundt i kroppen.

Der er to af dem, og de er brunlige og ligner bønner. De renser blodet for affaldsstoffer.



Formen er aflang og buet. Den sidder til venstre for maven. Dens vigtigste opgave er at hjælpe immunsystemet.

Organernes funktion

Lever, tarm og nyrer er som et rensningsanlæg, der fjerner alle de uønskede affaldsstoffer fra kroppen.

Skriv organets funktion ud for det rigtige billede.

optage ilt

fordøje mad

styre kroppen

pumpe blod

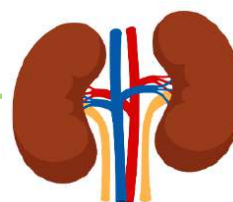
rense blodet

opbevare urin

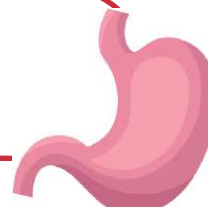












Find ord

Lungerne hjælper også til med at rense kroppen for kuldioxid. Og gennem huden udskilles affaldsstoffer, når du sveder.

MAVE

HJERTE

LEVER

TARM

NYRE

HJERNE

LUNGER

Find ovenstående ord. De kan stå både vandret og lodret og på skrå.

Z	W	E	P	S	H	O	V	E	L
L	E	V	E	R	N	H	Q	O	F
U	M	I	R	F	Y	N	C	E	S
N	M	H	I	V	R	W	V	Z	W
G	H	J	J	G	E	A	Q	Y	G
E	B	E	S	E	M	S	B	F	S
R	Q	R	A	O	R	T	H	X	Z
F	C	N	W	E	R	T	A	R	M
D	B	E	B	O	O	N	E	B	S
W	B	H	Q	N	Y	F	M	P	N

Gæt et organ

Når vi taler om organer, er det ofte de indre organer, vi mener. Men der er mange andre. Huden er f.eks. også et organ.

Tegn en streg fra beskrivelsen til det rigtige billede.

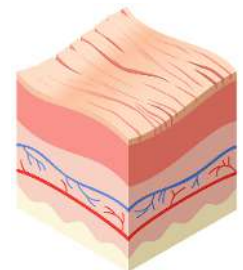


Den er kroppens største indre organ og er placeret lige under ribbenene. Dens funktion er at rense blodet.



Den er glat og elastisk som en ballon og sidder nederst i bughulen. Den opbevarer og udskiller urin.

Der er to af dem, og de sidder i brystet. Deres opgave er at optage ilt og udskille kuldioxid.



Den ligger øverst i bughulen og har til opgave at opbevare og nedbryde mad. Den kan udvide sig og trække sig sammen.

Den består af flere lag og har mange funktioner - f.eks. at beskytte mod solens stråler og regulere kroppens temperatur.

