

Mit hæfte med minus

- Niveau 2



Minus

Løs minusstykkerne ved hjælp af skemaet.

Hundreder	Tiere	Enere
	4	9
-	2	5
=		

Hundreder	Tiere	Enere
	6	8
-	4	5
=		

Hundreder	Tiere	Enere
	7	9
	3	3
=		
-	2	2
=		

Hundreder	Tiere	Enere
	5	8
	3	4
=		
-	1	2
=		



Minus



Træk tallene fra hinanden ved hjælp af skemaet.

Tiere	Enere
4	2
-	3

Tiere	Enere
6	2
-	5

Tiere	Enere
8	4
-	1

Tiere	Enere
5	8
-	3

Tiere	Enere
7	1
-	7


Tiere	Enere
2	1
-	1

Tiere	Enere
4	0
-	2

Tiere	Enere
1	8
-	1

Tiere	Enere
8	1
-	1

Rigtig eller forkert?



Sæt  ved de minusstykker der er rigtige.

Sæt  ved de minusstykker der er forkerte.

$57 - 13 = 44$



$111 - 99 = 12$



$60 - 15 = 55$



$55 - 32 = 26$



$25 - 23 = 3$



$80 - 29 = 49$



$101 - 90 = 11$



$81 - 30 = 51$



$90 - 45 = 50$



$21 - 12 = 9$



$105 - 65 = 50$



$142 - 45 = 94$



$138 - 39 = 99$



$122 - 11 = 100$





Minus



Brug skemaet til at finde ud af, hvad der skal trækkes fra.

Tiere	Enere
7	7
- 2	- 1
5	6

Tiere	Enere
4	6
-	
3	3

Tiere	Enere
5	7
-	
1	4

Tiere	Enere
5	5
-	
4	8

Tiere	Enere
2	1
-	
	9

Tiere	Enere
9	5
-	
4	0

Tiere	Enere
8	3
-	
6	5

Tiere	Enere
7	1
-	
3	0

Tiere	Enere
4	2
-	
1	8



Find svaret



Sæt streg hen til det rigtige svar.

$80 - 31$

$28 - 17$

$42 - 9$

$33 - 11$

$73 - 42$

$96 - 37$

33

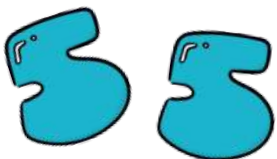
49

59

22

31

11





Minus



Løs regnestykkerne.
Streg tallet over i nederste boks.

$56 - 31 = \underline{25}$

$92 - 30 = \underline{\quad}$

$73 - 21 = \underline{\quad}$

$19 - 9 = \underline{\quad}$

$83 - 8 = \underline{\quad}$

$21 - 12 = \underline{\quad}$

$71 - 29 = \underline{\quad}$

$38 - 25 = \underline{\quad}$

$85 - 25 = \underline{\quad}$

$49 - 19 = \underline{\quad}$

$53 - 20 = \underline{\quad}$

$25 - 17 = \underline{\quad}$

8 62 10 33 13  52 42 48

75 5 60 70 25 55 30 9



Minus



Træk tallene fra hinanden.

	Hundreder	Tiere	Enere
-	4	9	8
	3	7	2

	Hundreder	Tiere	Enere
-	6	0	5
	1	2	4

	Hundreder	Tiere	Enere
-	5	3	6
	2	1	5

	Hundreder	Tiere	Enere
-	4	8	8
	3	7	1

	Hundreder	Tiere	Enere
-	2	4	7
	2	2	6

	Hundreder	Tiere	Enere
-	5	2	8
	5	1	8

Samme sum



Forbind de regnestykker som har samme sum.

$35 - 20$

$82 - 65$

$42 - 20$

$35 - 24$

$58 - 34$

$43 - 28$

$39 - 17$

$42 - 25$

$62 - 51$



$55 - 20$

$68 - 33$


$36 - 12$

Minus

Træk tallene fra hinanden.



Hundreder	Tiere	Enere
3	9	2
- 3	4	1



Hundreder	Tiere	Enere
5	5	8
- 2	3	9

Hundreder	Tiere	Enere
6	7	4
- 4	3	2

Hundreder	Tiere	Enere
2	8	2
- 1	1	3

Hundreder	Tiere	Enere
1	3	8
- 1	2	9

Hundreder	Tiere	Enere
4	0	0
- 2	4	6



Minus

Træk tallene fra hinanden.



$$65 - 25 - 10 =$$

$$70 - 29 - 11 =$$

$$49 - 30 - 9 =$$

$$58 - 13 - 23 =$$

$$99 - 90 - 4 =$$

$$27 - 9 - 8 =$$

$$63 - 42 - 6 =$$

$$84 - 58 - 14 =$$