




# SVARARK

## POST 1: LØS TALGÅDEN.

 =	 =	 =
---	---	---

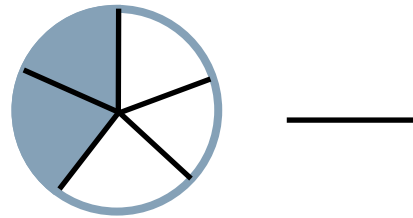
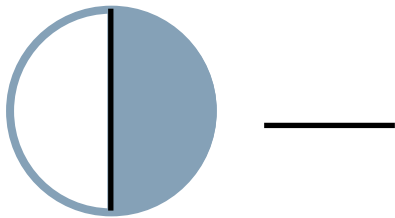
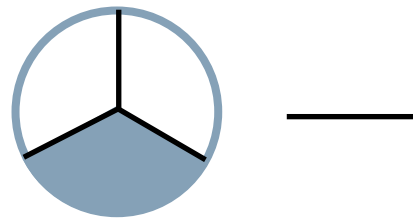
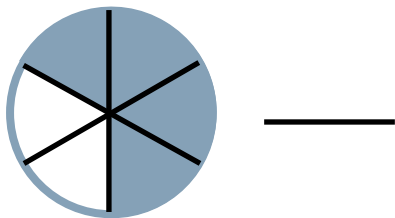
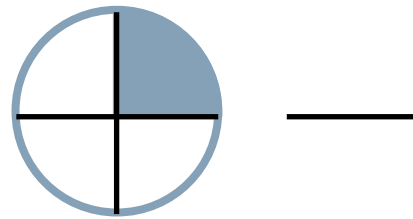
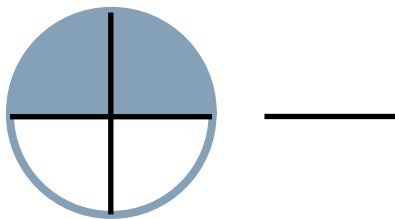
## POST 2: SVAR PÅ SPØRGSMÅLENE.

Hvor mange gaver var der i det første rum? \_\_\_\_\_

Hvor mange gaver skal til Humleby og Kulleby? \_\_\_\_\_

Hvor mange gaver er der i alt? \_\_\_\_\_

## POST 3: SKRIV SNEBOLDENS BRØK.



# SVARARK

## POST 4: LAV TRE REGNESTYKKER.

---

$$= 74$$







---

$$= 74$$

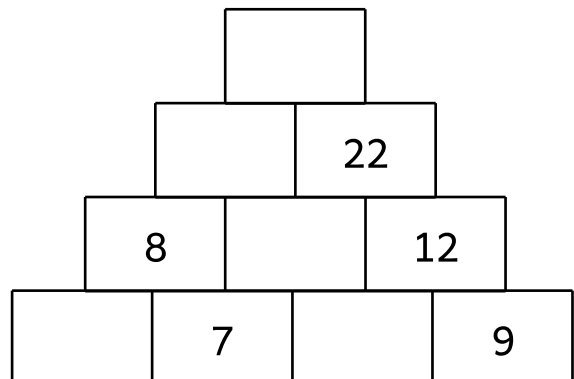
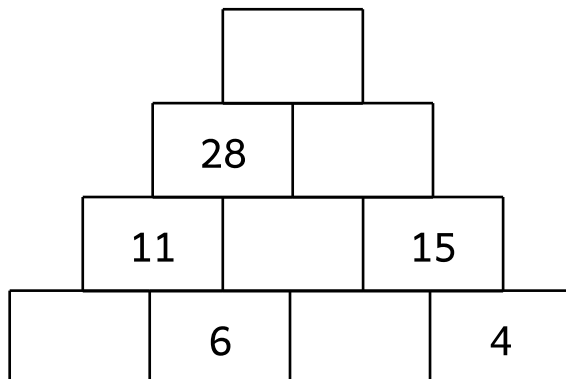
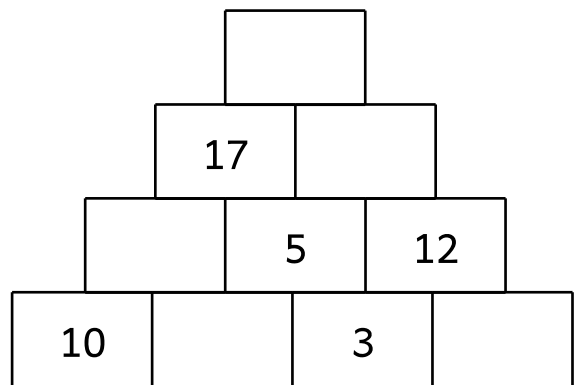
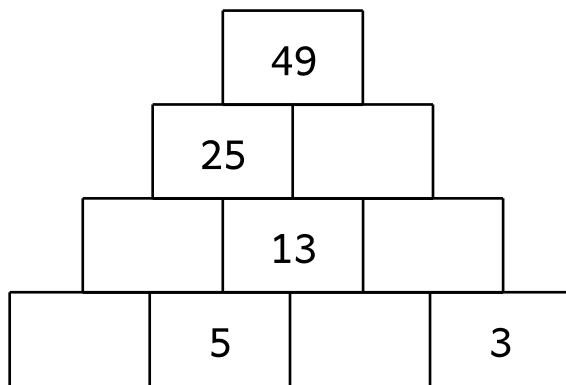
---

$$= 74$$

## POST 5: SKRIV KOORDINATERNE.



## POST 6: LØS TALPYRAMIDERNE.



# SVARARK

## POST 7: AFLÆS OG SVAR PÅ SPØRGSMÅLENE.

Hvilken dag sneer det mest? \_\_\_\_\_

Hvor mange mm sneer det 1. og 2. juledag? \_\_\_\_\_

Hvilken dag sneer det mindst? \_\_\_\_\_

Hvor mange mm sneer det i alt på de 4 dage? \_\_\_\_\_

## POST 8: AFLÆS VISERNE OG SKRIV KLOKKEN.

Jeg spiser pebernødder til morgenmad



kl. \_\_\_\_\_

Jeg bygger en snemand



kl. \_\_\_\_\_

Vi spiser and til aftensmad



kl. \_\_\_\_\_

Vi har aftalt at se julefilm i stuen

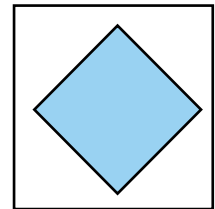


kl. \_\_\_\_\_

# SVARARK

## POST 9: SKRIV TRE SÆTNINGER.


1 \_\_\_\_\_



2 \_\_\_\_\_

3 \_\_\_\_\_

1 \_\_\_\_\_



2 \_\_\_\_\_

3 \_\_\_\_\_

## POST 10: SVAR PÅ SPØRGSMÅLENE.

Hvad koster 8 kartofler?

\_\_\_\_\_

Hvad koster skumfiduser og pebernødder i alt?

\_\_\_\_\_

Hvad koster en steg og en kagemand?

\_\_\_\_\_

Hvad koster to slikstokke og en kagemand i alt?

\_\_\_\_\_

Hvad koster det hele i alt?

\_\_\_\_\_