

# SVARARK

## POST 1: LØS TALGÅDEN.



## POST 2: LÆS HISTORIEN OG SVAR PÅ SPØRGSMÅLENE.

Hvor mange æg køber påskeharen i butikken? \_\_\_\_\_

Hvor mange æg har Lille Kanin efter at have givet nogle af sine æg til påskeharen? \_\_\_\_\_

Hvor mange æg har påskeharen, da han når til haven og skal til at dele alle sine påskeæg ud? \_\_\_\_\_

## POST 3: LÆS HISTORIEN OG SVAR PÅ SPØRGSMÅLENE.



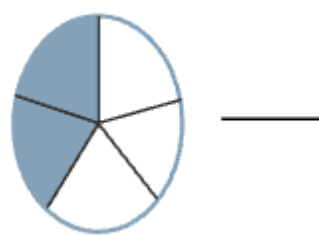
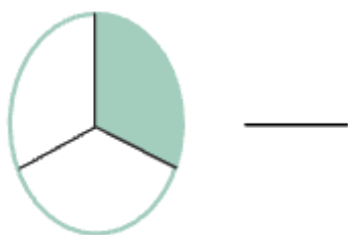
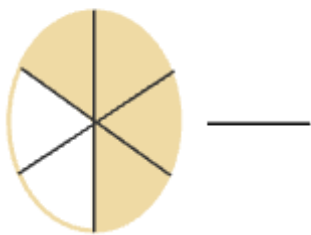
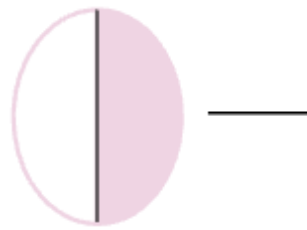
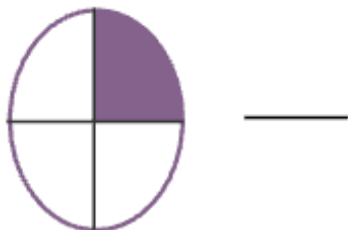
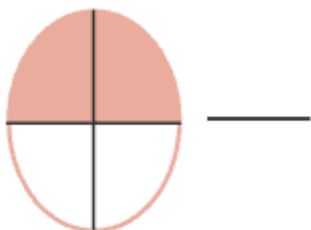
mindst

størst



# SVARARK

## POST 7: SKRIV BRØKEN.



## POST 8: AFLÆS KLOKKEN.

Påseharen kommer i haven



kl. \_\_\_\_\_

Påseharen går videre til næste have



kl. \_\_\_\_\_

Påseharen fylder sin kruk op



kl. \_\_\_\_\_

Påseharen taber to påskeæg



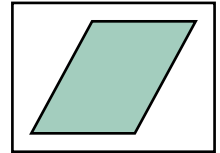
kl. \_\_\_\_\_

# SVARARK

**POST 9: SKRIV TRE SÆTNINGER TIL HVER.**



---



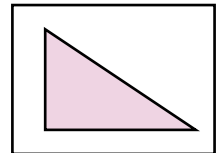
---



---



---



---



---

**POST 10: SVAR PÅ SPØRGSMÅLENE.**

Hvad koster 4 kopper varm kakao?

---

Hvad koster maling og pensler i alt?

---

Hvad koster 5 pakker æg?

---

Hvad koster det i alt?

---