

# SVARARK

POST 1: FIND VEJ NED TIL STRANDEN.



4	8	7	17	31	64
6	12	15	28	32	36
22	16	20	24	14	40
18	26	30	20	48	44
34	28	16	38	52	45



POST 2: HVOR MANGE TING HAR JONAS MED I ALT?



---

# SVARARK

**POST 3: SÆT STREG FRA PENGENE OG HEN TIL GRISEN.**

12 kr.      2 kr.

5 kr.                      10 kr.


3 kr.                      5 kr.

10 kr.                      8 kr.

6 kr.                      7 kr.

11 kr.                      15 kr.

9 kr.                      4 kr.



**POST 4: HVAD KOSTER TINGENE I ALT?**


---

**POST 5: HVEM ER JEG? SÆT KRYDS.**

  
30  
28  
22  
25

# SVARARK

POST 6: LAV TALRÆKKERNE FÆRDIG.



POST 7: HVILKEN FIGUR MANGLER I MØNSTERET? SÆT RING OM DEN.

1.



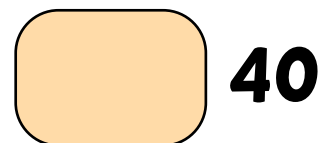
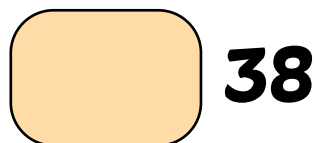
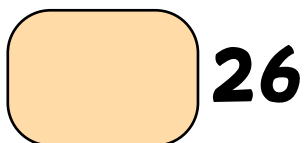
2.



3.



POST 8: HVOR MANGE CIRKLER ER DER PÅ BILLEDET?



# SVARARK

POST 9: SÆT STREG MELLEM VIPPE OG POOL.


$$\begin{array}{r} 14 + 12 \\ \hline \end{array}$$



$$\begin{array}{r} 35 - 11 \\ \hline \end{array}$$



$$\begin{array}{r} 21 + 12 \\ \hline \end{array}$$



POST 10: PLUS TALLENE SAMMEN OG SÆT KRYDS.

**A**

=



**B**

=



**C**

=

