

# SOMMERLØB 1

## MATEMATIK



Navn: \_\_\_\_\_

Klasse: \_\_\_\_\_

# POST 1

Sommer er en af de fire årstider vi har.

De andre er efterår, vinter og forår.

Om sommeren bliver det varmt, og det er lyst længe udenfor.

START  
HER



**FIND VEJ NED TIL STANDEN.  
PLUS MED 4 HVER GANG.**

4	8	7	17	31	64
6	12	15	28	32	36
22	16	20	24	14	40
18	26	30	20	48	44
34	28	16	38	52	45



# POST 2

En regnehistorie er en historie, hvor der er gemt et regnestykke i.  
Her bliver ord og tal blandet sammen, og man skal øve sig i at  
finde frem til regnestykket.

## LØS REGNEHISTORIEN.

Her er Jonas.

Jonas skal stranden.

Han har 2 bade-ringe med.

Han har 5 bade-bolde med.

Han har 6 spande med.



**HVOR MANGE TING HAR JONAS MED I ALT?**



# POST 3

Nanna skal på ferie med sin familie. Hun vil gerne have en pæn sommerkjole til ferien. Den hun gerne vil have, koster 50 kr. Den er blomstret og rigtig blød.



**SÆT STREG FRA PENGENE OG HEN TIL GRISEN.  
DER SKAL VÆRE 50 KR. I ALT.**

12 kr.      2 kr.

5 kr.

10 kr.

3 kr.

5 kr.

10 kr.



8 kr.

6 kr.

7 kr.

11 kr.

15 kr.


9 kr.

4 kr.

# POST 4

Når man skal på sommerferie, eller faktisk bare når solen skinner, er det vigtigt at have solcreme på. Med solcreme bliver du ikke forbrændt af solen og bliver rød. Det kan nemlig gøre rigtig ondt, og det er ikke sundt for kroppen.

## DU SKAL HANDLE IND TIL SOMMERFERIEN.



SOLCREME

30 KR.



DYKKERUDSTYR

19 KR.



SOMMERHAT

10 KR.



KAMERA

35 KR.

## HVAD KOSTER TINGENE I ALT?

---

# POST 5

Minus er en af de fire regnearter, som er en stor del i matematik. Udover minus er der plus, gange og division. Her skal du træne minus.

**HVEM ER JEG?**  
**LØS REGNESTYKKERNE OG SÆT KRYDS.**

Jeg er ikke  $14 + 8$ .

Jeg er ikke  $9 + 21$ .

Jeg er ikke  $12 + 16$ .

Hvem er jeg?



30



28



22



25

# POST 6



Over sommeren kan man nemt spise mange mange is. Der findes nemlig både flødeis, sodavandsis og softice. Det er dejligt at få noget koldt, når det er varmt udenfor.

## LAV TALRÆKKERNE FÆRDIG.





# POST 7

Et mønster er en ligesom en hemmelig kode, der gentager sig selv igen og igen. Mønstre kan være alle slags ting - farver, former, tal og endda lyde. De er som sjove gentagelser, der får tingene til at se pæne ud.

**HVILKEN FIGUR MANGLER I MØNSTERET?  
SÆT RING OM DEN RIGTIGE FIGUR.**


1.



2.



3.






# POST 8

Der findes mange forskellige former. Der er firkanter, trekkanter, cirkler, kugler, kasser og mange flere. Hvilke figurer og former kender du?

**HVOR MANGE CIRKLER ER DER PÅ BILLEDET?  
SÆT KRYDS VED TALLET.**




26

38

40


# POST 9

I mange badeland er der både en 1-meters vippe og en 3-meters vippe. 3 meter lyder måske ikke af meget, men der er ret langt ned deroppe fra.

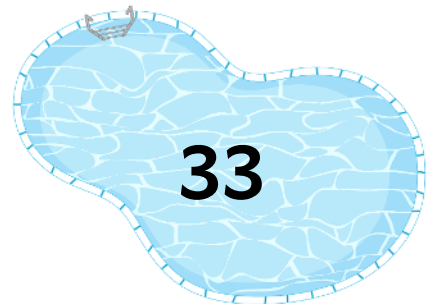


**HVILKET RESULTAT PASSER TIL REGNESTYKKET?  
SÆT STREG MELLEM VIPPE OG POOL.**

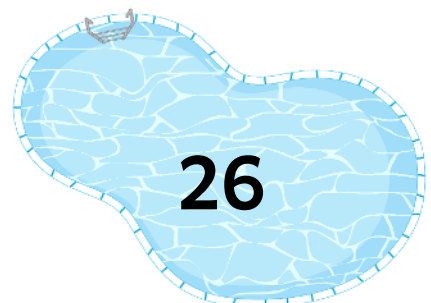
$$14 + 12$$



$$35 - 11$$



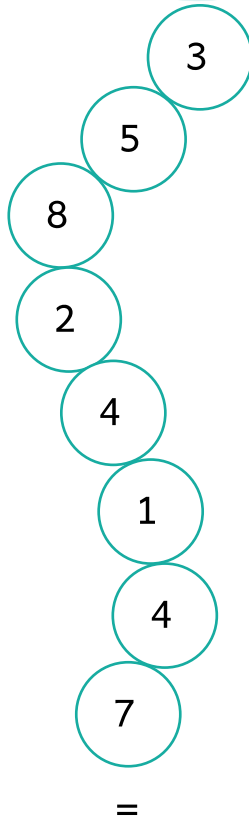
$$21 + 12$$



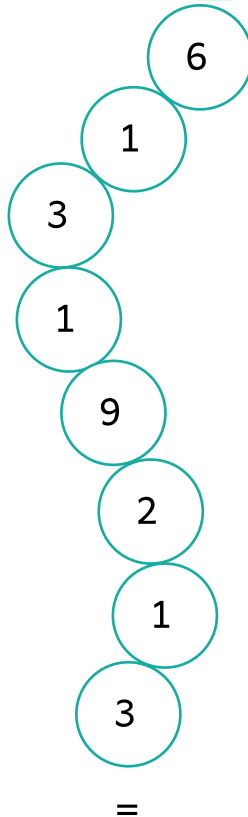

# POST 10

I badeland og vandparker findes der nogle kæmpe store vandruftsjebaner. De kan være kæmpe høje og være i mange forskellige farver. Har du nogensinde prøvet en vild vandruftsjebane?

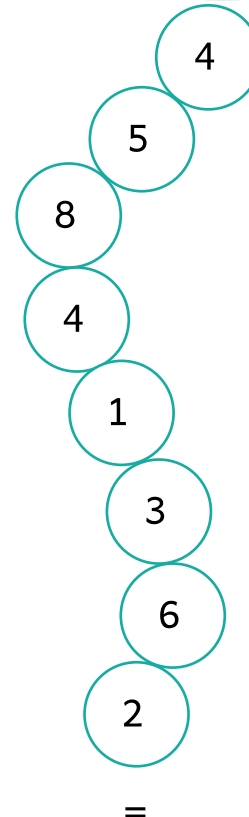
**HVILKEN RUTSJEBA NE HAR DET STØRSTE RESULTAT?  
PLUS TALLENE SAMMEN OG SÆT KRYDS.**



\_\_\_\_\_



\_\_\_\_\_



\_\_\_\_\_