
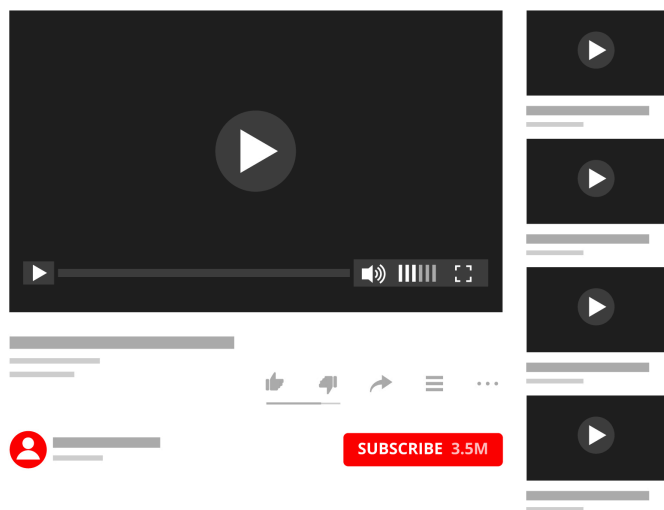


Jeg vil være youtuber

Matematik



YouTube

Navn: _____

Klasse: _____


Udstyr

Nu skal det være! Du har besluttet dig for, at du vil prøve at blive en youtuber. Men det er ikke helt billigt at starte op. Du skal nemlig bruge forskelligt udstyr.



YouTube

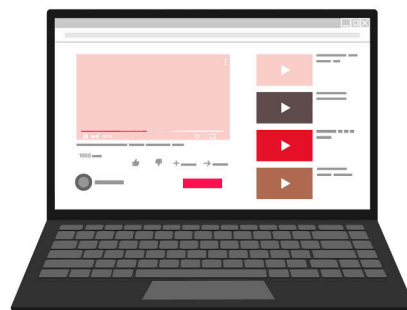
Hvad koster udstyret i alt?
Vis hvordan du regner.



Mikrofon
409 kr.



Kamera
3985 kr.




Computer
5999 kr.

Giveaway

Nu har du fået alt udstyret og er klar til at begynde som youtuber. Du har dog ikke særlig mange subscribers og derfor vil du lave en giveaway. Du skal selv købe præmien. Hvilke ting vil du have med i din giveaway, når du har 740 kroner, og du skal bruge alle pengene?

Hvilke ting vil du have med i din giveaway?

Sæt streg fra tingene, der tilsammen giver 740 kr, og ind til pengene.



740 kr.



Subscribers

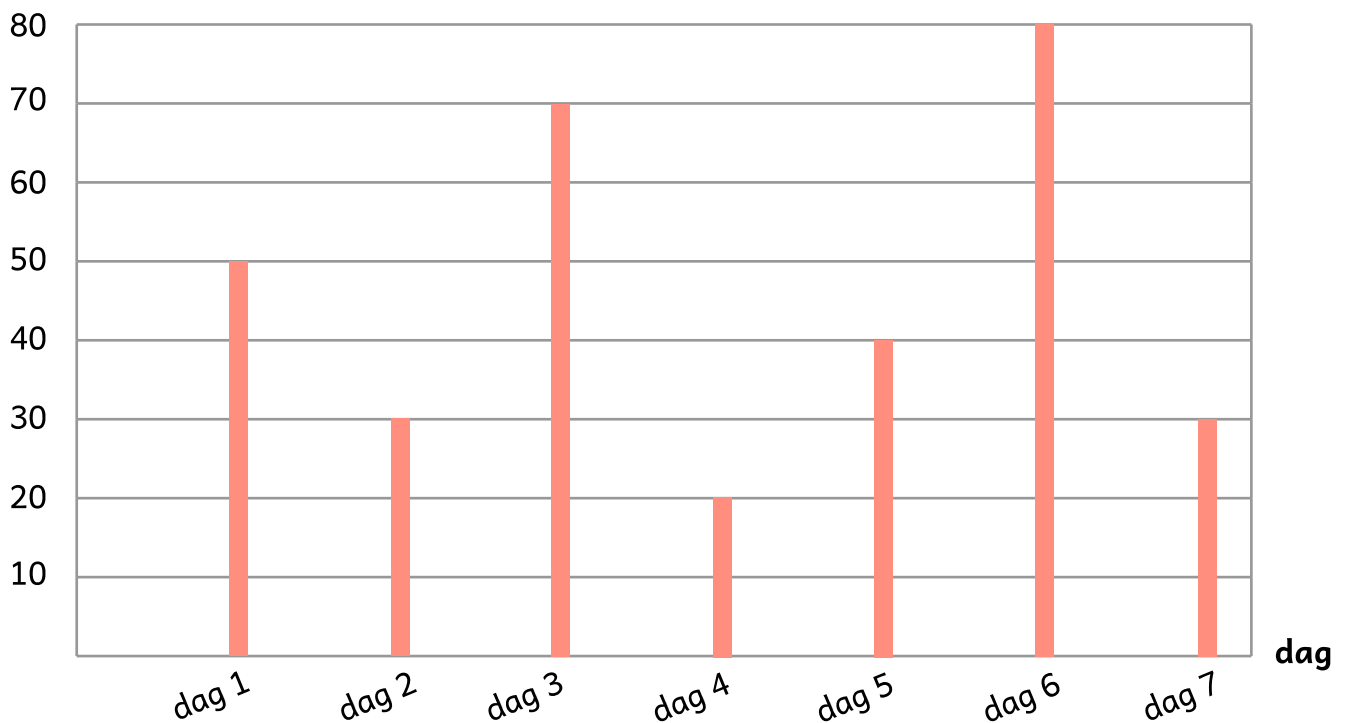


Efter din giveaway får du flere subscribers. Hver dag får du flere subscribers. Herunder kan du se et pindediagram, som viser hvor mange nye subscribers du får over 7 dage.



Aflæs pindediagrammet.

antal nye subscribers



Hvilken dag får du flest nye subscribers? _____

Hvilken dag får du færrest nye subscribers? _____

Hvor mange nye subscribers får du på dag 3? _____

Hvor mange nye subscribers får du i alt på 7 dage? _____

Vlog fra Tivoli

En vlog er en video, hvor du følger en eller flere personer gennem deres dag. Du skal en tur i Tivoli og beslutter dig for at vlogge hele dagen.



Aflæs uret og skriv klokken.



Klokken _____ står du op.




Du tager bussen klokken _____.



Du ankommer til Tivoli klokken _____.



Du tager bussen hjem igen klokken _____.



Du spiser aftensmad klokken _____.



Likes på videoer

Du har efterhånden fået mange subscribers. Men det er ikke alle dine videoer, der får lige mange likes. Nogle videoer får flere likes end andre.



Indsæt <, > eller =.



518

185



221

122



432

432



393

639



322

332



699

969



Reklamer på Youtube

Du kan nu begynde at tjene penge på at lave Youtube. Det kan du gøre gennem reklamer, der vises før, under eller efter videoerne.

Youtuber 1



Youtuber 1 får 10 kroner for hver 1000 visninger.

Youtuber 2



Youtuber 2 får 10 kroner for hver 500 visninger.

Youtuber 3



Youtuber 3 får 10 kroner for hver 250 visninger.

**Hvor mange penge tjener youtuberne?
Udfyld tabellen.**

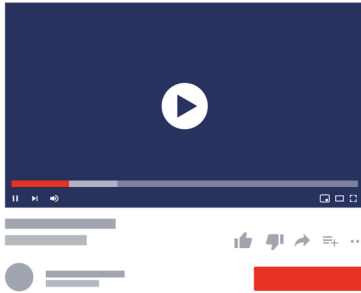
	Youtuber 1	Youtuber 2	Youtuber 3
1000 visninger	10 kr.	20 kr.	40 kr.
1500 visninger			
5000 visninger			
10.000 visninger			

Reklamer på Youtube

Din kanal bliver større og større, og du begynder at kunne tjene mange penge på det. Derfor begynder du at lave flere reklamer, til at betale for dit udstyr.



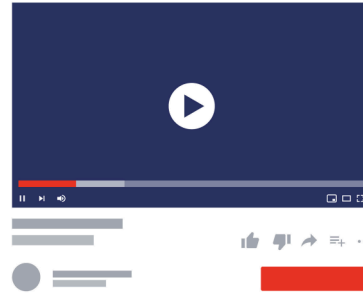
Video A



Der er 10 reklamer i alt.

Du tjener 500 kroner pr. reklame.

Video B



Der er 20 reklamer i alt.

Du tjener 200 kroner pr. reklame.

Du vil gerne tjene pengene ind igen for det udstyr du købte.
Udstyret kostede 10.393 kroner.

Hvor mange penge tjener du på at lave video A? _____ kr.

Hvor mange penge tjener du på at lave video B? _____ kr.

Hvor mange video A skal du lave, for at tjene pengene ind, som udstyret har kostet? _____ videoer.

Hvor mange video B skal du lave, for at tjene pengene ind, som udstyret har kostet? _____ videoer.