

Løs grublere

Matematik



Navn: _____

Klasse: _____




Løs grublerne

Løs matematikgrublerne. De kan være svære, drillende og nogle gange kan svaret være lige foran næsen på dig. Andre gange skal du virkelig tænke og regne for at finde frem til svaret. Så smøg ærmerne op og se, hvor mange af grublerne du kan løse!



Hvem er jeg? Gæt figuren og sæt ring om den.

- Jeg har ingen rette vinkler.
- Jeg har kanter.
- Jeg har ikke 4 kanter.
- Hvem er jeg?



Emilie får 30 kr. i lommepege om ugen.
Hun støvsuger, går med hunden og gør sit værelse rent.
Hvor mange lommepege får hun på 3 uger?

_____ kroner



Hvilke tal mangler?

3

4	8		16
---	---	--	----

3	6		12
---	---	--	----

11	22		44
----	----	--	----




Hvilket tal repræsenterer hver frugt?

4

$$\text{orange} + \text{orange} + \text{orange} = 9$$


$$\text{pineapple} + \text{pineapple} + \text{orange} = 13$$

$$\text{pineapple} + \text{orange} + \text{grapes} = 15$$



Lav tre forskellige regnestykker, som har resultatet 25.

5



_____ = 25


_____ = 25

_____ = 25

Hvad er klokken?

6

Sæt kryds ved det rigtige svar.



10:50

06:55

10:30

06:10

Hvor meget vejer dyrene tilsammen?

7



Hvilket tal er jeg? Skriv tallet på linjen.

8

- Jeg er et lige tal.
- Jeg er større end 20.
- Jeg er mindre end 40.
- Jeg går op i 4-tabellen.
- Jeg er det dobbelte af 12.



Hvem er jeg? Sæt kryds over det rigtige tal.

9

12

11

8

19

Jeg er ikke ...

$17 - 5$

$4 \cdot 2$

$13 + 6$

Hvilke tal mangler?

10


100	200		400
-----	-----	--	-----

3	5	7	
---	---	---	--

20	15		5
----	----	--	---

Tegn viserne på uret.

11



Hvordan skal viserne se ud,
hvis klokken er 11:30.

Svar på gåden.

12

Du har en pose med slik.

Du deler slikket i to lige store bunker.

Der er 6 stykker slik i hver bunke.

Hvor mange stykker slik er der i posen?



Hvem er jeg?

13

- Jeg er et ulige tal.
- Jeg er mindre end 30.
- Jeg er større end 8.
- Jeg går op i 3-tabellen.
- Jeg er det halve af 18.

