
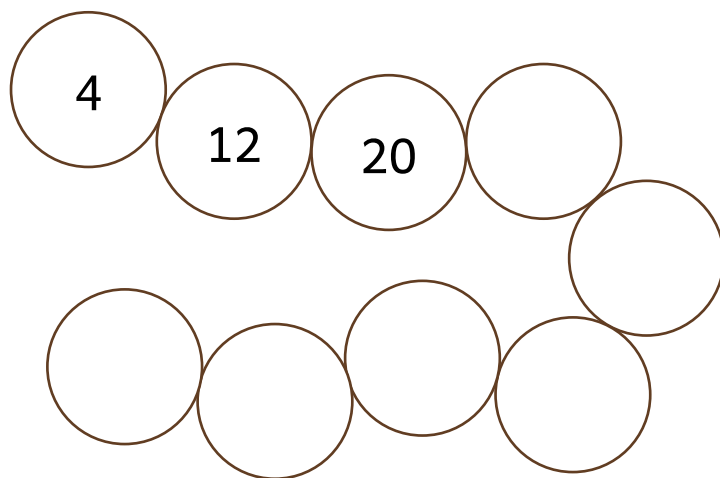


Træn plus

træningshæfte



+ 8

Navn: _____

Klasse: _____

Plusstykker

Når vi bruger plus i matematik, betyder det, at vi lægger et tal til et andet tal for at få et større tal.



Løs plusstykkerne.

$16 + 32 = \underline{48}$

$13 + 22 = \underline{\hspace{2cm}}$

$42 + 19 = \underline{\hspace{2cm}}$

$37 + 9 = \underline{\hspace{2cm}}$

$11 + 34 = \underline{\hspace{2cm}}$

$15 + 32 = \underline{\hspace{2cm}}$

$22 + 48 = \underline{\hspace{2cm}}$

$44 + 15 = \underline{\hspace{2cm}}$

$12 + 21 = \underline{\hspace{2cm}}$

$7 + 53 = \underline{\hspace{2cm}}$

Sæt streg fra æbler og hen til træet. Kun de æbler, der giver 46.

Tree sign: $= 46$

Apples and their math problems:

- $28 + 18$
- $39 + 7$
- $14 + 32$
- $31 + 11$
- $9 + 35$
- $17 + 29$
- $22 + 14$
- $23 + 23$

Plusstykker

Når vi lægger tal sammen, kaldes resultatet en sum, og vi bruger plus for at finde en sum.

+ 8

Lav talrækken færdig. Den vokser med 8 hver gang.



4	12	20			

Skriv tallet i firkanten, så regnestykket passer.

$19 + \boxed{21} = 40$

$14 + \boxed{} = 31$

$31 + \boxed{} = 52$

$\boxed{} + 9 = 27$

$\boxed{} + 33 = 48$

$\boxed{} + 16 = 36$

$15 + \boxed{} = 37$

$24 + \boxed{} = 50$

$\boxed{} + 21 = 44$

$11 + \boxed{} = 16$

Rigtig eller forkert?

Plus hjælper os med at tælle og finde ud af, hvor meget vi har, når vi samler ting sammen.

Er regnestykket rigtig eller forkert? Sæt kryds.

$$27 + 31 = 58$$



Rigtig



Forkert



$$19 + 18 = 34$$



Rigtig



Forkert



$$23 + 16 = 39$$



Rigtig



Forkert



$$31 + 14 = 45$$



Rigtig



Forkert



$$24 + 17 = 43$$



Rigtig



Forkert



$$26 + 12 = 40$$



Rigtig



Forkert



$$14 + 23 = 37$$



Rigtig



Forkert



$$29 + 18 = 47$$



Rigtig



Forkert



$$21 + 15 = 46$$



Rigtig



Forkert



Plus med penge

Hvis du har 8 kroner og du får 5 kroner mere, kan du bruge plus til at finde ud af, hvor mange penge du har i alt.

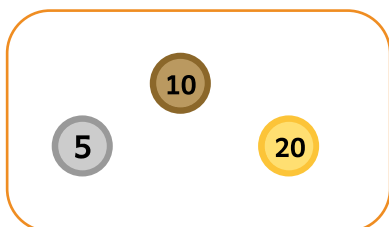
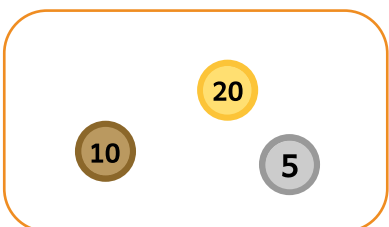


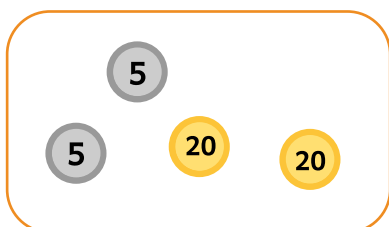
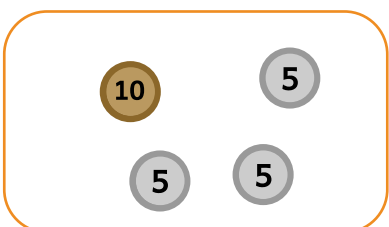
Plus pengene sammen.

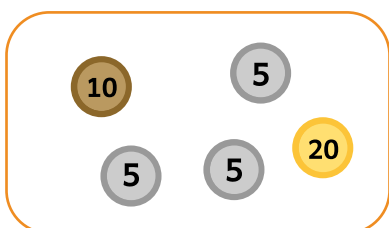
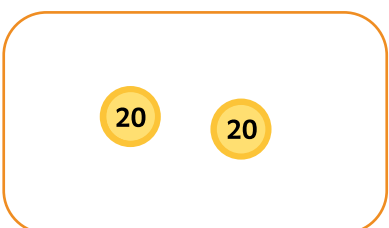
5 = 5 kroner

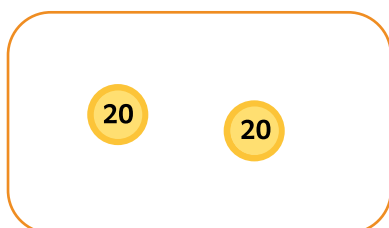
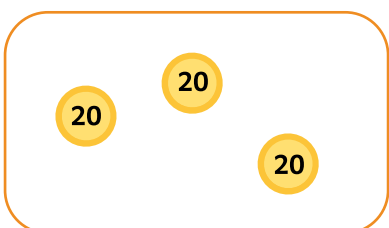
10 = 10 kroner

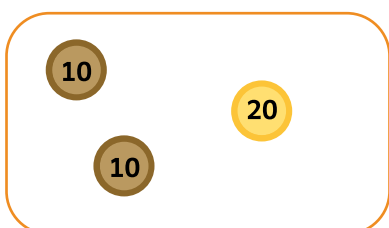

20 = 20 kroner

 +  = _____ kroner

 +  = _____ kroner

 +  = _____ kroner

 +  = _____ kroner

 +  = _____ kroner

Hvordan regner du?

Plus bruges tit. Det bruges når vi regner penge sammen eller tæller, hvor mange penge vi har.

Løs plusstykkerne. Vis, hvordan du regner.

$13 + 12$

$9 + 26$



$35 + 16$

$14 + 28$



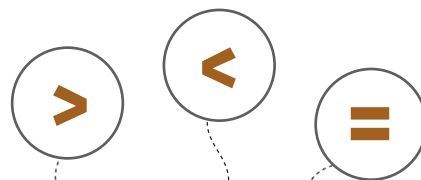
$21 + 11$

$38 + 27$



Indsæt tegn

I matematik kan vi bruge plus på både små og store tal.



Løs regnestykkerne og indsæt <, > eller = i kassen.

$10 + 7$ $6 + 9$

$40 + 7$ 74

$13 + 12$ $20 + 5$

$9 + 9$ $8 + 11$

$40 + 30$ $60 + 20$

$99 + 1$ 101

$21 + 12$ $12 + 21$

$8 + 7$ $9 + 4$

$3 + 9$ 13

$11 + 9$ $12 + 6$

21 $11 + 11$




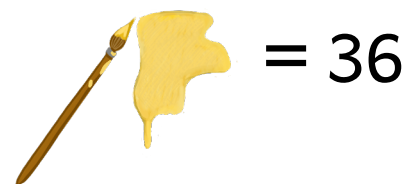

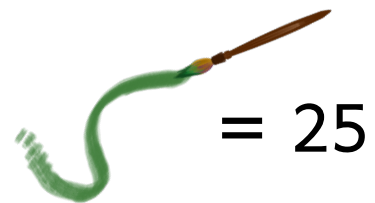
$99 + 5$ $100 + 4$

Farvelæg med regnestykker

For at finde ud af, hvor mange vi har i alt, kan vi lægge tallene sammen ved at bruge plus, og så får vi det samlede antal.

Løs regnestykkerne og farv dem i den rigtige farve.

$10 + 15$	$21 + 15$	$18 + 18$
$12 + 5$	$27 + 27$	$8 + 17$
$25 + 11$	$29 + 25$	$6 + 11$
$30 + 24$	$12 + 13$	$19 + 17$
$9 + 16$	$20 + 16$	$41 + 13$
$20 + 5$	$9 + 8$	$12 + 24$
$13 + 4$	$35 + 19$	$6 + 19$
$28 + 26$	$11 + 14$	$10 + 7$



Sæt streg til resultatet

Når du ser et plus-tegn (+) i et regnestykke, betyder det, at du skal lægge tallene sammen for at ud af, hvor meget du har i alt.

Sæt streg mellem regnestykket og det rigtige resultat.

$11 + 19 \quad \bullet \quad = 60$

$23 + 17 + 6 \quad \bullet \quad = 52$

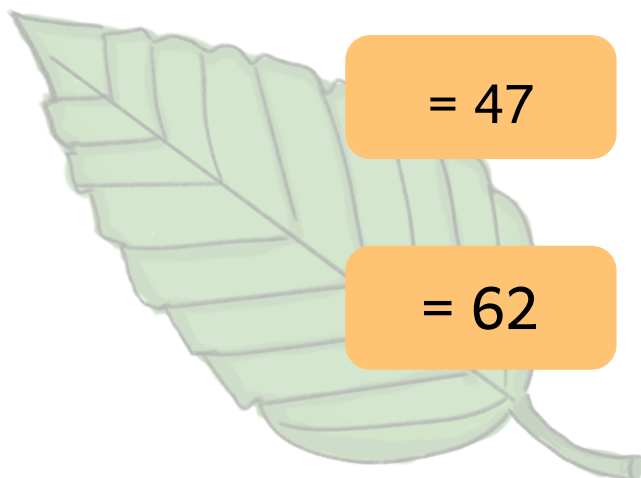
$29 + 31 \quad \bullet \quad = 46$

$13 + 25 + 9 \quad \bullet \quad = 75$

$27 + 18 + 7 \quad \bullet \quad = 30$

$35 + 22 + 5 \quad \bullet \quad = 47$

$21 + 16 + 38 \quad \bullet \quad = 62$



Regnehistorier

Omskriv regnehistorierne til regnestykker og løs dem.

Luna samler på klister-mærker.

Hun har 18 med frugt på og 23 med biler på.

Hvor mange har hun i alt?



$$\underline{\hspace{2cm}} + \underline{\hspace{2cm}} = \underline{\hspace{2cm}}$$

Sofie cykler rundt i påske-ferien. På dag 1 cykler hun 12 km.

På dag 2 cykler hun 17 km. På dag 3 cykler hun kun 3 km.

Hvor mange kilometer cykler hun i alt?



$$\underline{\hspace{2cm}} + \underline{\hspace{2cm}} + \underline{\hspace{2cm}} = \underline{\hspace{2cm}}$$



Elias er i Zoo. Han tæller dyrene.

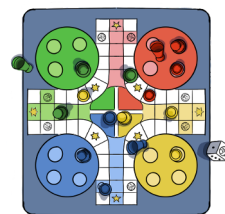
Han ser 16 aber, 13 fugle, 2 bævere og 5 pandaer.

Hvor mange dyr ser han i alt?

$$\underline{\hspace{2cm}} + \underline{\hspace{2cm}} + \underline{\hspace{2cm}} + \underline{\hspace{2cm}} = \underline{\hspace{2cm}}$$

Regn løs

Når du bruger plus, kan du finde ud af, hvor lang tid noget varer. Du kan finde ud af, hvor lang tid du har spillet et spil.



Løs regnestykkerne med plus.

$34 + 12 = \underline{\hspace{2cm}}$

$56 + 9 = \underline{\hspace{2cm}}$

$45 + 33 = \underline{\hspace{2cm}}$

$48 + 29 = \underline{\hspace{2cm}}$

$45 + 33 = \underline{\hspace{2cm}}$

$12 + 18 + 10 = \underline{\hspace{2cm}}$

$17 + 8 + 15 = \underline{\hspace{2cm}}$

$38 + 6 = \underline{\hspace{2cm}}$

$25 + 10 + 8 = \underline{\hspace{2cm}}$

$30 + 41 = \underline{\hspace{2cm}}$

$22 + 27 = \underline{\hspace{2cm}}$

$42 + 11 + 7 = \underline{\hspace{2cm}}$

$14 + 21 + 35 = \underline{\hspace{2cm}}$

$55 + 25 = \underline{\hspace{2cm}}$

$39 + 11 = \underline{\hspace{2cm}}$

$31 + 14 + 2 = \underline{\hspace{2cm}}$

