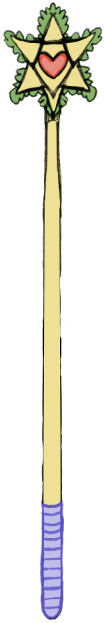


Månedsopgave 5



Mål tryllestavens højde med din lineal og omskriv.

_____ mm

_____ cm

_____ dm

_____ m

Reducer regneudtrykkene.

$$2a + b + 2c + a = \underline{\hspace{2cm}}$$

$$3b + 2b + a + 3b = \underline{\hspace{2cm}}$$

$$4c - 2b + 5b + c = \underline{\hspace{2cm}}$$

$$a + b + 3b + c + 3a = \underline{\hspace{2cm}}$$

$$7b + 2a - 3b + a = \underline{\hspace{2cm}}$$

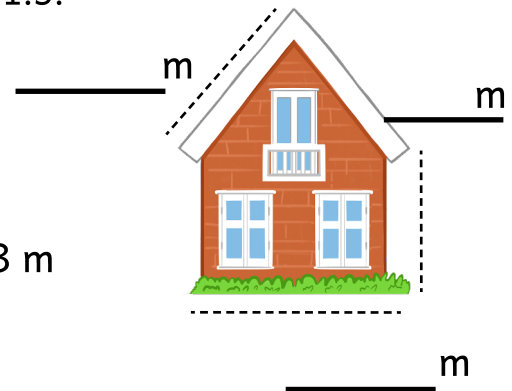
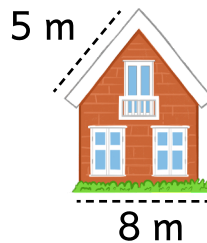
$$5a - a - 2c + 6c = \underline{\hspace{2cm}}$$

Skriv målene på det andet hus i et målestoksforhold 1:5.

Løs regnestykkerne.

$$\frac{2}{6} + \frac{5}{6} = \underline{\hspace{1cm}}$$

$$\frac{6}{7} - \frac{3}{7} = \underline{\hspace{1cm}}$$



Indsæt punkterne i koordinatsystemet.

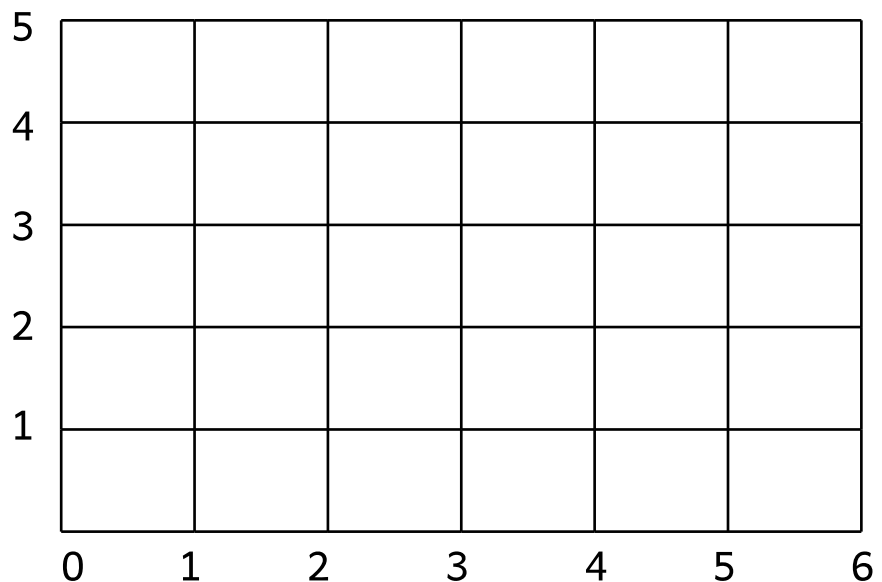
(3, 4)

(1, 2)

(5, 3)

(6, 1)

(4, 5)



Månedsopgave 5

Du har været ude og shoppe nyt tøj. Du har allerede fundet 2 stykker tøj og du har **830 kroner** at købe for. Hvor meget må hatten koste?



Vis hvordan du regner:

Afrund til nærmeste hele tal.

9,45 → _____

34,72 → _____

12,50 → _____

6,54 → _____

19,39 → _____

25,51 → _____

51,75 → _____

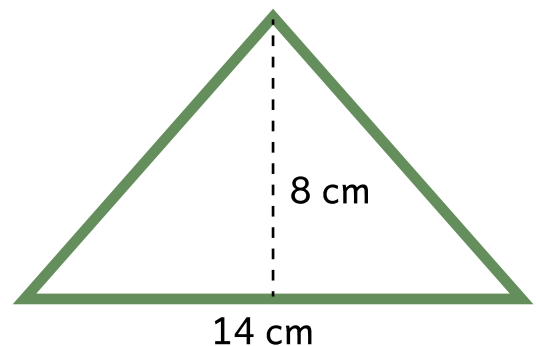
Lav 3 forskellige regnestykker, som giver **56**.
Brug gerne flere forskellige regnearter.

1. _____

2. _____

3. _____

Beregn arealet af trekanten.



areal = _____

Farv de tal som indgår i 7- eller 8-tabellen.

32 38 58 49 42

41 15 56 27 73 68

22 49 24 62 64 48

Månedsopgave 5

Når du øver de fire regnearter - plus, minus, gange og dividere træner du en meget vigtig del af matematikken. Matematik er sjovere at lave, når de vigtige regnearter er lette at bruge - så kan du nemlig løse alle mulige forskellige opgaver.

Løs regnestykkerne. Vis hvordan du regner.



$79 + 83$

$123 + 987$

$1005 + 89$

$674 + 653$

$56 - 37$

$104 - 78$

$483 - 245$


$1890 - 435$



Månedsopgave 5

Når du øver de fire regnearter - plus, minus, gange og dividere træner du en meget vigtig del af matematikken. Matematik er sjovere at lave, når de vigtige regnearter er lette at bruge - så kan du nemlig løse alle mulige forskellige opgaver.

Løs regnestykkerne. Vis hvordan du regner.



8×13	21×19
38×11	9×41
$72 : 8$	$64 : 8$
$105 : 5$	$126 : 9$