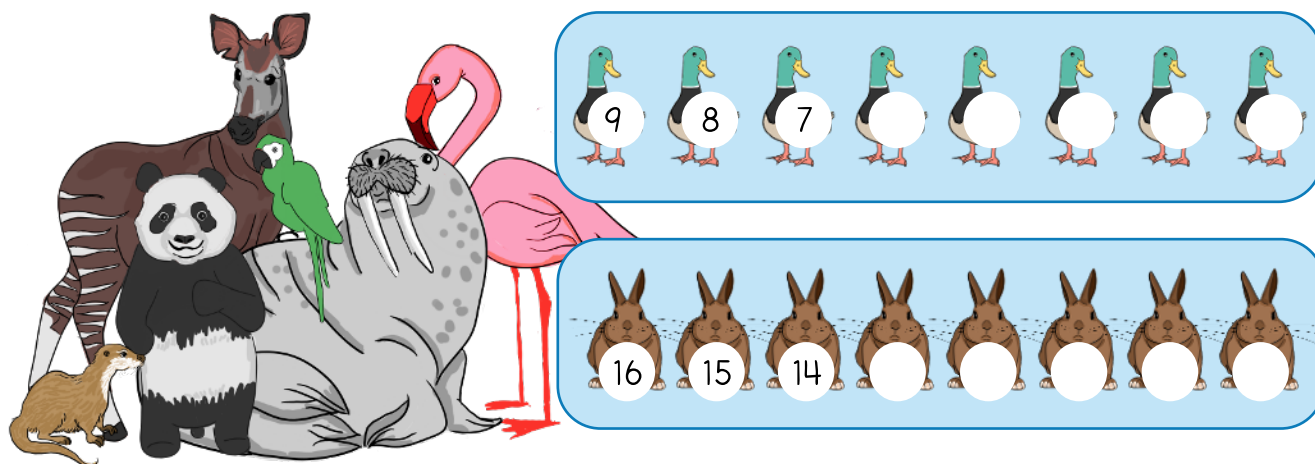


# Regn med dyr

## Matematik



Navn: \_\_\_\_\_

Klasse: \_\_\_\_\_

# Plus med dyr

Et plusstykke er et regnestykke, hvor vi lægger noget sammen. Når flere dyr kommer til, bruger vi plus til at regne hvor mange, vi har i alt.


Tæl dyrene og plus dem sammen.



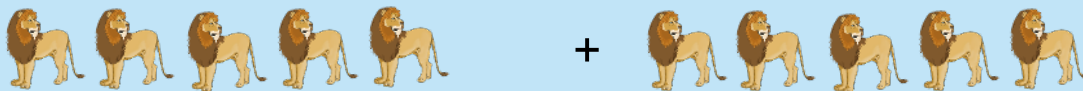
$$\underline{4} + \underline{2} = \underline{\quad}$$



$$\underline{\quad} + \underline{\quad} = \underline{\quad}$$




$$\underline{\quad} + \underline{\quad} = \underline{\quad}$$



$$\underline{\quad} + \underline{\quad} = \underline{\quad}$$



$$\underline{\quad} + \underline{\quad} = \underline{\quad}$$


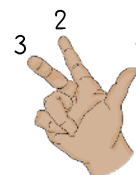


$$\underline{\quad} + \underline{\quad} = \underline{\quad}$$


# Tæl dyr

Der findes rigtig mange dyr, der lever i vand, og det meste af jorden er faktisk dækket af vand. Der er opdaget mere end 241.000 dyr, der lever i vandet.


Tæl dyrene og sæt ring om det rigtige antal.




2      3      4




5      6      7




7      8      9



8      10      9



10      8      11



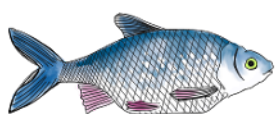
12      13      14



# 10'er venner

Når vi plusser 2 tal sammen, som giver 10, kalder vi dem for 10'er venner.  
Når du kan dem, bliver det nemmere at regne.

Få fisken gennem labyrinten og ned til søen.  
Følg og farv kun felter med 10'er venner.



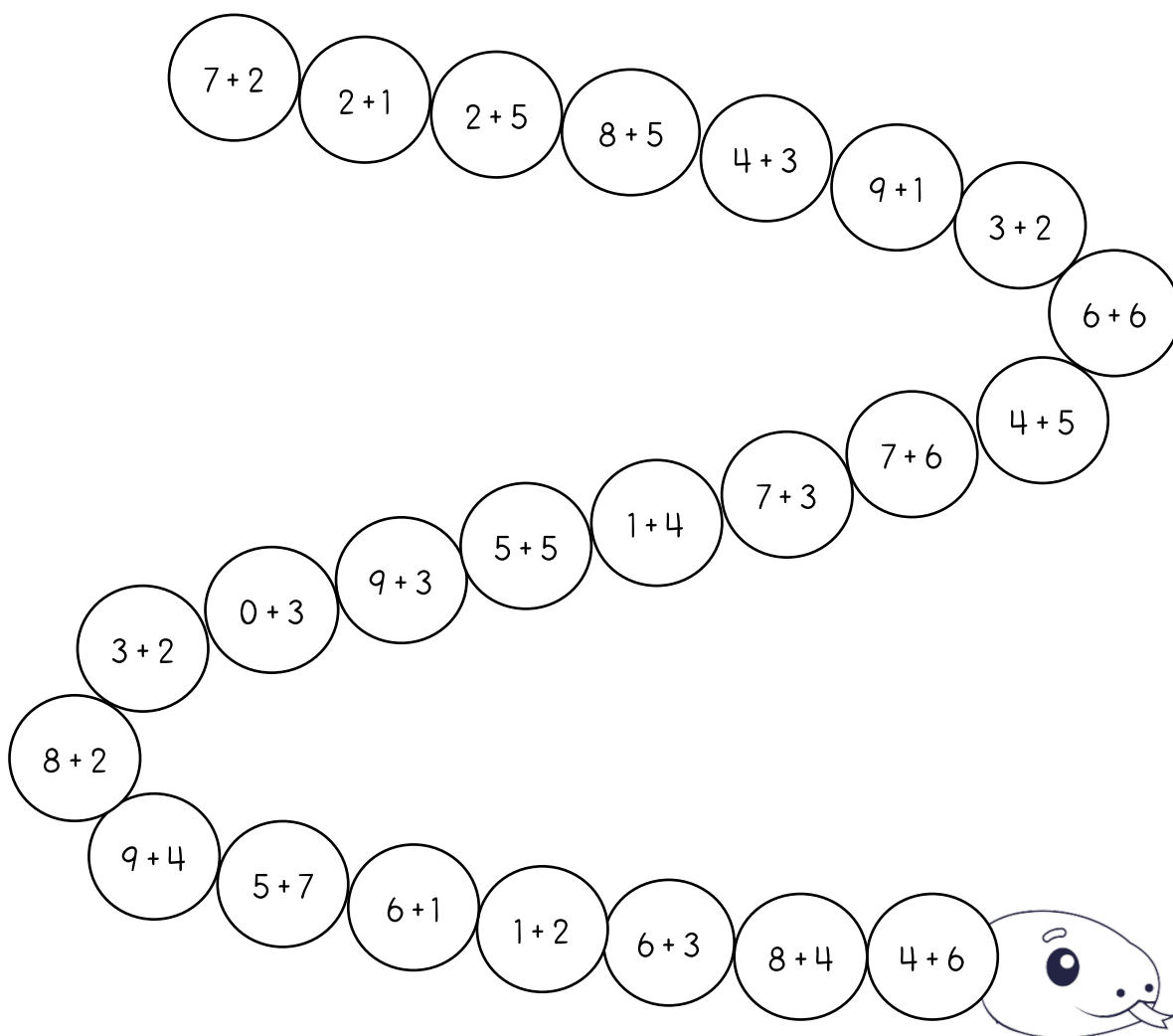
1+10	4+6	3+9	2+7	1+5	4+2
4+5	5+5	3+8	4+3	5+8	5+3
8+1	7+3	4+4	8+3	9+2	10+3
4+7	8+2	9+1	6+4	5+5	1+3
4+8	8+4	2+4	7+5	3+7	8+1
1+1	2+2	7+2	1+9	2+8	4+4
6+6	7+1	9+3	7+3	6+6	5+2



# Plus slangen

Slanger har ingen ben, men de kan bevæge sig meget hurtigt. Slanger kan også blive meget lange. Nogle kan faktisk blive længere end en bil.





Farv slangens regnestykker i den rigtige farve.



# Talrækker med dyr

Rigtig mange pattedyr bor hos os mennesker eller på en bondegård. Det er for eksempel hunde, katte og kaniner. På bondegården bor også heste, grise, køer og får.

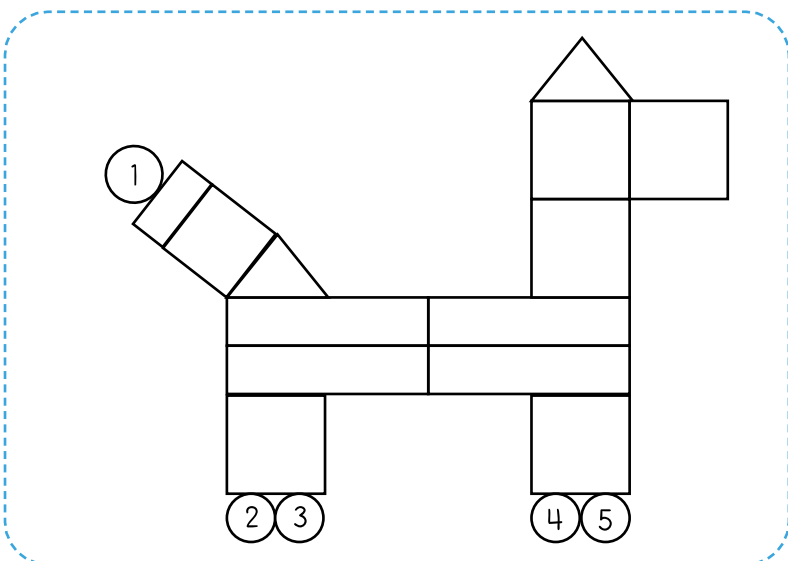

Fortsæt dyrenes talrækkefølge.







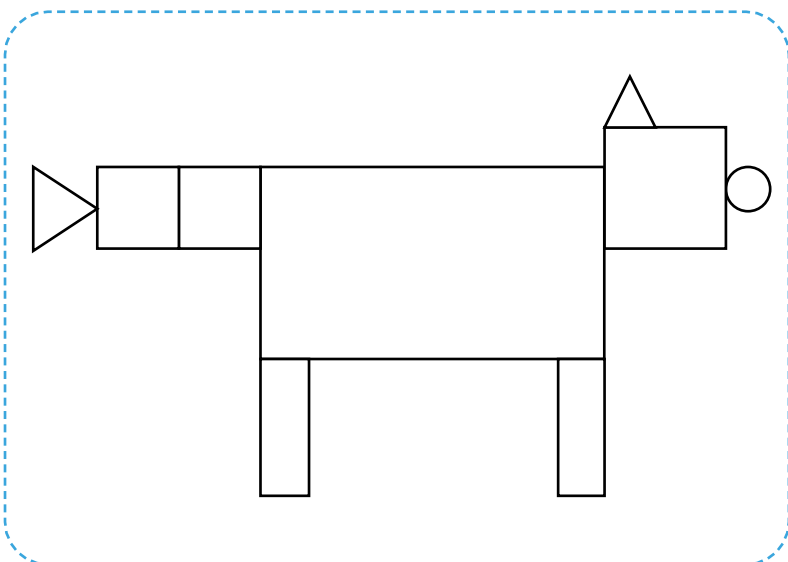
# Figurer og former





Figurer findes overalt, også i dyrenes verden. Når vi kigger på figurer, lærer vi at kende forskel på de forskellige former.

Tæl figurerne i dyrene og skriv antallet i boksen.



figur	antal
 =	5
 =	
 =	
 =	



figur	antal
 =	
 =	
 =	
 =	

# Tæl hvor mange

Når vi tæller dyr, øver vi os i tal. Når vi kan tælle, bliver det lettere at bruge matematik i hverdagen, for eksempel når vi leger.



Tæl og skriv, hvor mange der er af hvert dyr.

Below the collection are three boxes for counting, each containing a small illustration of a bird and an empty rounded square for writing the count:

- Yellow-green bird:
- Brown bird with orange throat:
- Grey bird:

Below the collection are three boxes for counting, each containing a small illustration of an animal and an empty rounded square for writing the count:

- Brown and white spotted cow:
- Brown cow:
- White goat:



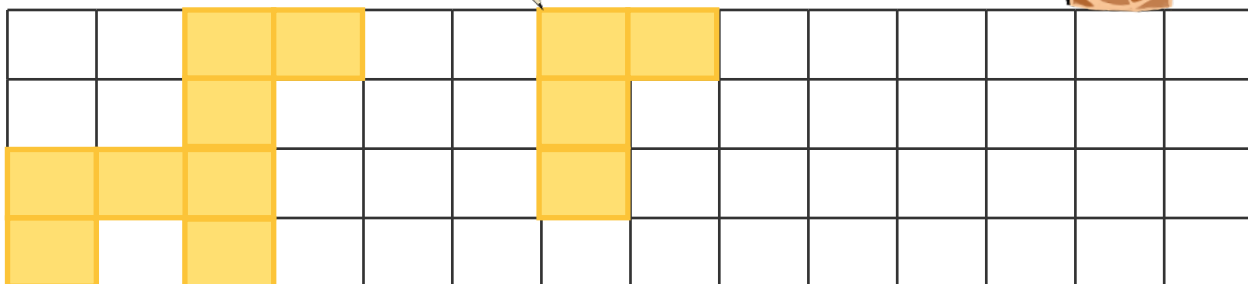
# Mønstre

Mønstre er noget, der gentager sig igen og igen. Vi kan finde mønstre i dyrenes pletter, striber og farver.

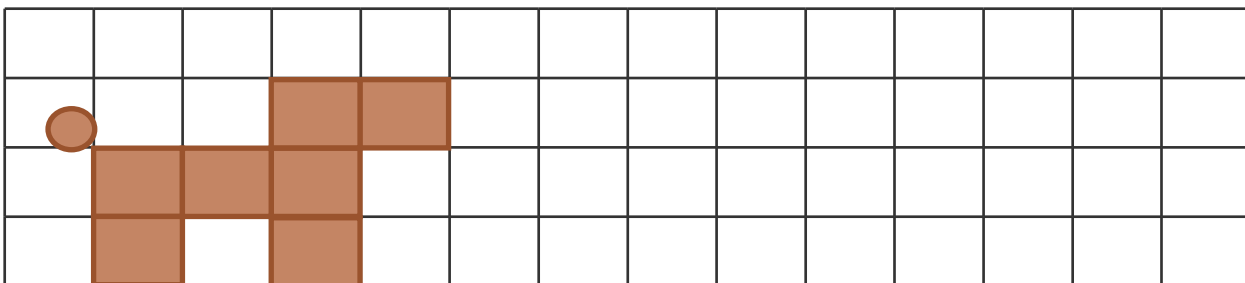
Kig dyrets figurer og fortsæt mønstrene.



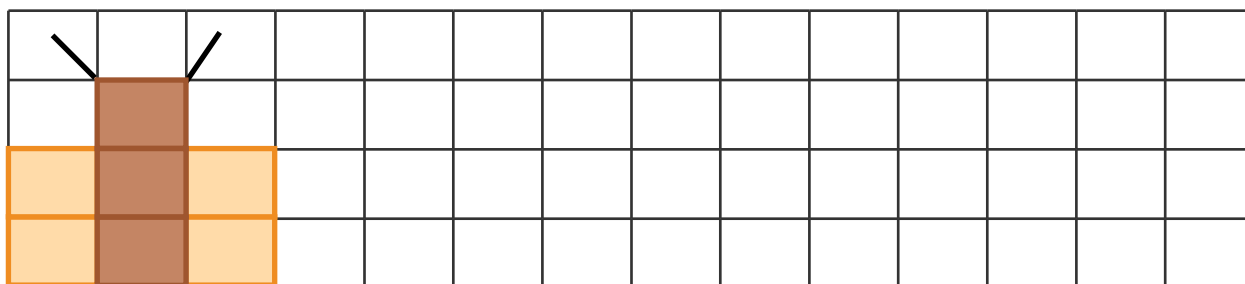
## Giraf



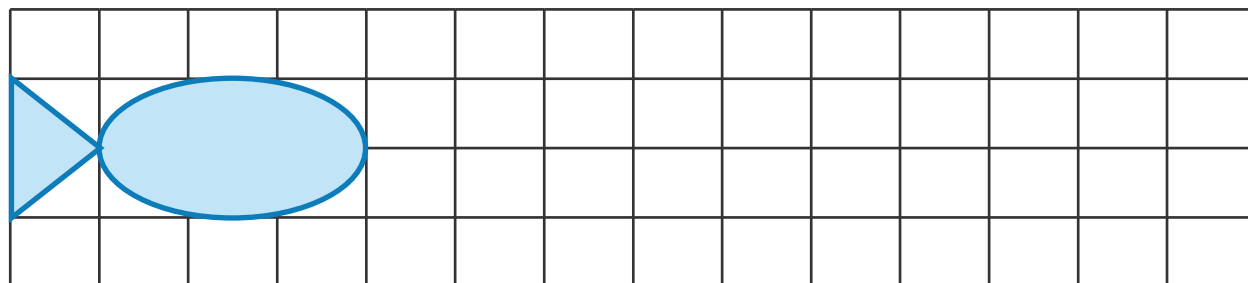
## Hund



## Sommerfugl



## Fisk



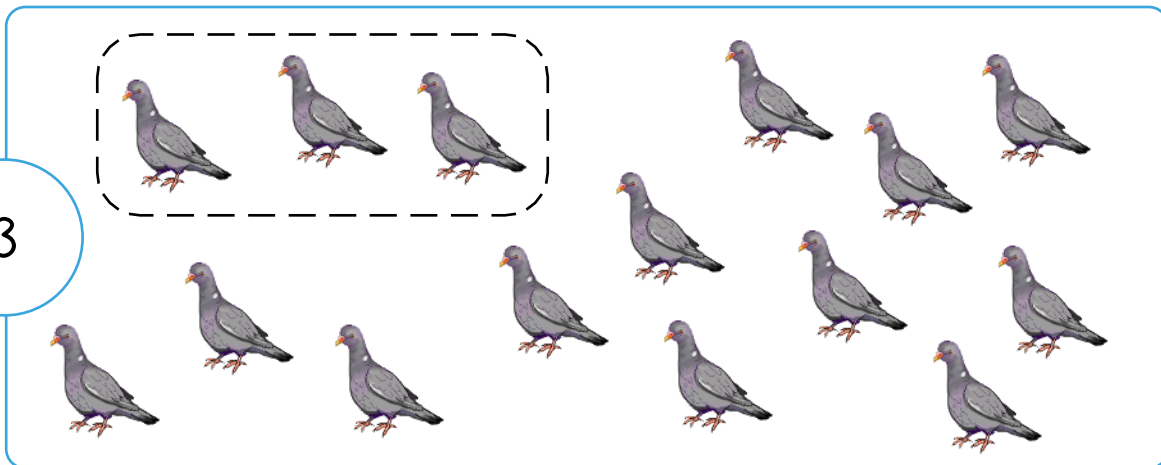
# Sæt ring om dyrene

Mange dyr lever i en flok, hvor de er flere dyr sammen. Når vi tæller dyrene og deler dem ind i grupper, lærer vi om talmængder.


Sæt ring om det rigtige antal dyr, så mange gange du kan.




3



4



5



# Minus med dyr

Et minus er et regnestykke, hvor vi tager noget væk. Når et dyr går sin vej, bruger vi minus til at se, hvor mange dyr vi har tilbage.

Løs minusstykkerne. Sæt kryds over dyrene.

$3 - 2$



$=$  \_\_\_\_\_

$4 - 1$



$=$  \_\_\_\_\_

$5 - 3$




$=$  \_\_\_\_\_

$6 - 2$



$=$  \_\_\_\_\_

$4 - 4$



$=$  \_\_\_\_\_

$5 - 3$



$=$  \_\_\_\_\_

$7 - 4$




$=$  \_\_\_\_\_

# Tallinje

Alle dyr har deres egen lyd, og det gør dem speciel.

Fuglen siger "pip", ugleen siger "uh-uh", en and siger "rap" og slangen siger "ssss".


Sæt streg fra dyret og hen til det rigtige sted på tallinjen.




# Finde opgave

Aben og koalaen bor begge i skoven. De klatrer og sover i træer.  
Aben spiser frugt, og koalaen spiser blade. Måske du har set dem i zoo?

Hvilke tal giver 10? Sæt ring om dem.

$4 + 3$	$7 + 3$	$4 + 2$	$8 + 2$	$1 + 8$	$9 + 2$
$5 + 5$	$6 + 4$	$= 10$ 		$3 + 6$	$1 + 9$
$6 + 4$	$7 + 4$			$4 + 6$	$5 + 6$
$9 + 1$	$3 + 7$	$5 + 5$	$3 + 5$	$2 + 8$	$4 + 4$

Hvilke tal giver 20? Sæt ring om dem.

$10 + 10$	$7 + 7$	$12 + 8$	$12 + 4$	$10 + 5$	$19 + 1$
$7 + 4$	$18 + 2$	$= 20$ 		$15 + 5$	$15 + 2$
$16 + 4$	$10 + 3$			$14 + 2$	$17 + 3$
$11 + 8$	$11 + 9$	$16 + 5$	$16 + 4$	$9 + 4$	$10 + 10$